

Románský a gotický sloh

hodina dějepisu pro žáky 6. ročníku ZŠ

Úkol č. 1

Prozkoumej virtuální expozici Středověká Praha a najdi mezi exponáty okno, které vidíš na tomto listě na obrázku.

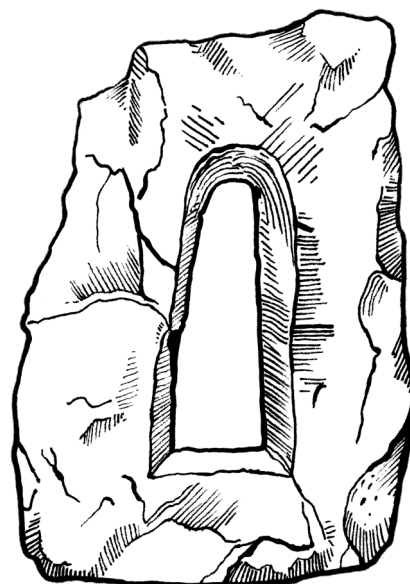
Dobře si ho prohlédni a popiš ho:

století:

sloh:

z jaké stavby pochází:

materiál:.....



Úkol č. 2


V expozici je také vystavená část velikého kamenného okna ze 14. století. Najdi ho a udělej si jeho náčrtek:

století: 14. století

sloh: gotický

z jaké stavby pochází: dům U Kamenného zvonu

materiál: opuka



Úkol č. 3

Zapiš alespoň dva rozdíly mezi oběma okny:

.....

.....


.....

Úkol č. 4

Románské okno, které jsi našel/našla v expozici, má okenní otvor asi 20 cm široký a 50 cm vysoký. Aby sis lépe představil/a jeho velikost, odměř si oba rozměry na pravítku. Promysli si, proč byla v raném středověku (v románském období) okna tak úzká. Zapiš si, co tě napadlo:

Úkol č. 5


Jak už jsi zjistil/a, okno pochází z kostela. Představ si, že žiješ v období raného středověku (románský sloh, 12. století). Nahlédni oknem dovnitř. Zakroužkuj předměty, které v kostele vidíš:



kostelní lavice



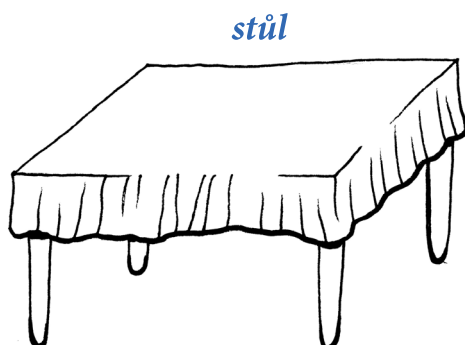
obraz



oltářní stůl



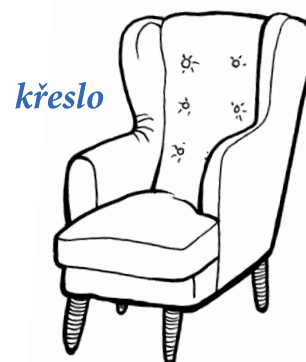
vosková svíčka



stůl



kamenná křtitelnice



křeslo